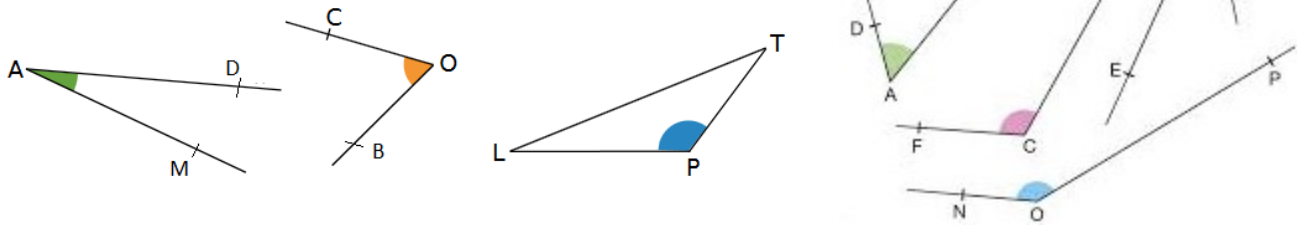


Fiche : Les angles

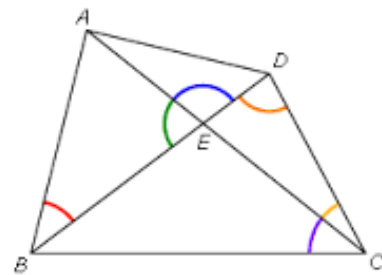
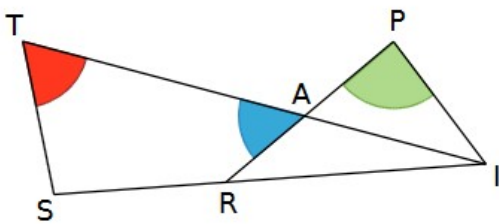
Objectif : Nommer un angle

Exercice 1 : Donner la nature des angles ci-dessous :



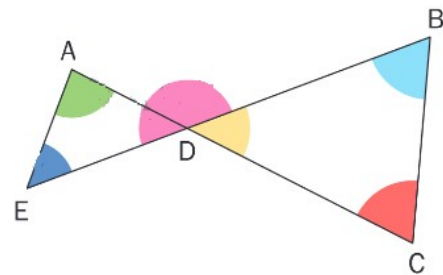
Exercice 2 : Nommer les angles ci-dessous :

Exercice 3 : Nommer les angles ci-dessous :



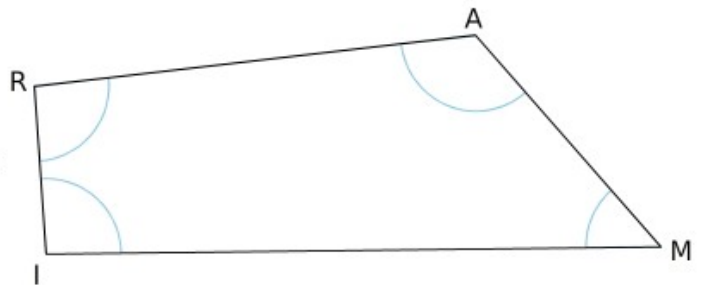
Exercice 4 : De quelle couleur sont les angles suivants ?

- a) \widehat{CBD} b) \widehat{DCB} c) \widehat{EAC} d) \widehat{EDB}



Exercice 5 : Colorier sur la figure les angles :

- a. \widehat{ARI} en rouge ; c. \widehat{MAR} en bleu ;
 b. \widehat{MIR} en vert ; d. \widehat{AMI} en orange ;



Exercice 6 : Colorier sur la figure les angles :

- a. \widehat{ECO} en rouge ; d. \widehat{CEU} en orange ;
 b. \widehat{CUO} en vert ; e. \widehat{COU} en jaune ;
 c. \widehat{UBO} en bleu ; f. \widehat{EUB} en rose.

