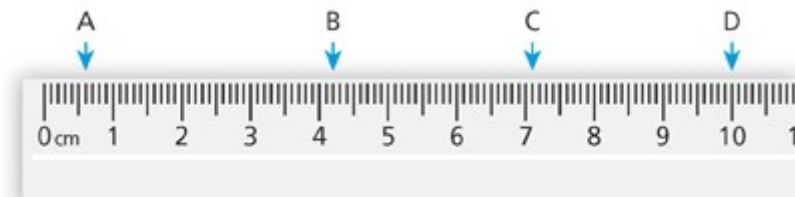
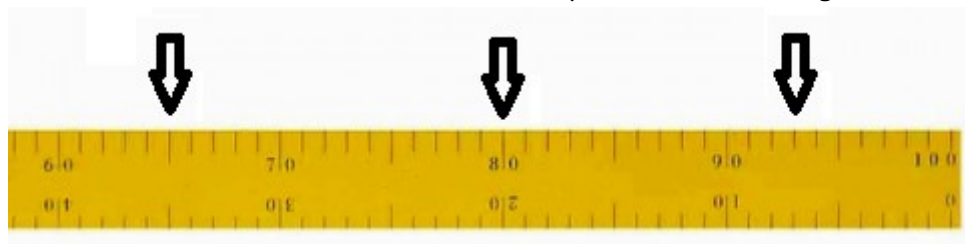


Objectif : Lire l'abscisse d'un point

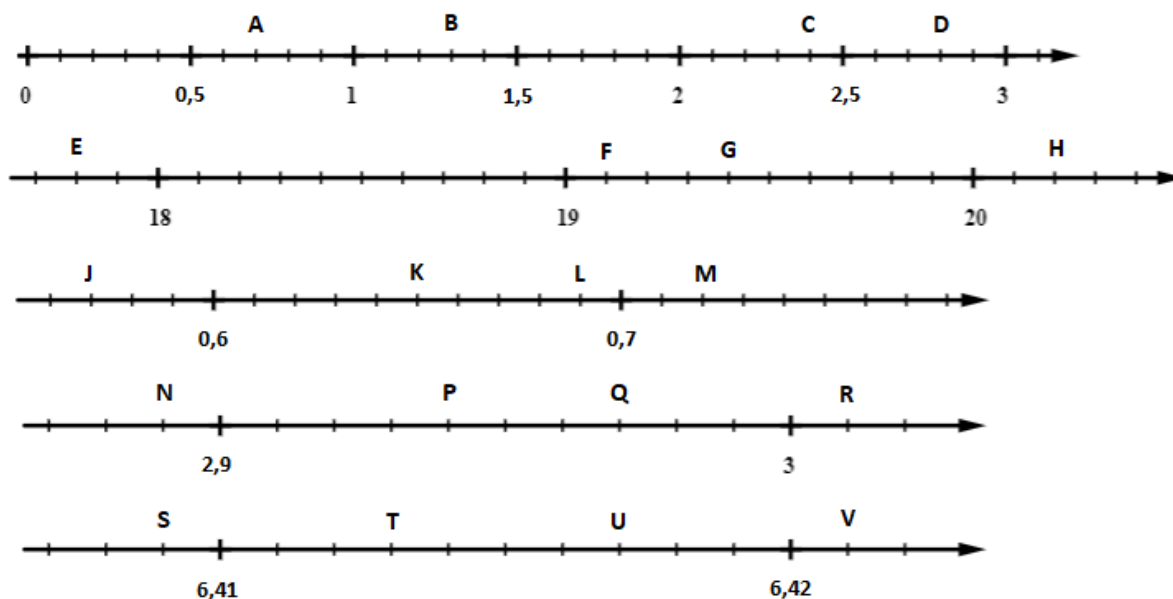
Exercice 1 : Ecrire, en écriture décimale, les nombres repérés sur cette règle.



Exercice 2 : Ecrire, en écriture décimale, les nombres repérés sur cette règle.



Exercice 3 : Donner l'abscisse des points sur chaque demi-droite graduée




Objectif : Placer un nombre décimal sur une demi-droite graduée



Exercice 4 : Voici quelques scientifiques :

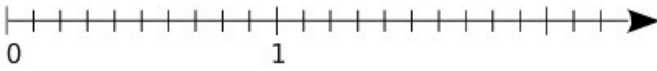
Marie Curie (1867) ; Charles Darwin (1809) ; Thomas Edison (1847) ; Alfred Nobel (1833) ; Louis Pasteur (1822) ; Albert Einstein (1879)

Placer leur date de naissance sur la frise chronologique suivante :

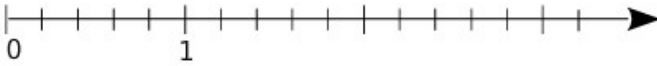


Exercice 5 : Placer les points sur les demi-droites graduées :

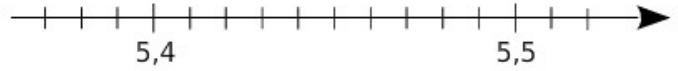
a. A(0,3) ; B(1,4) ; C(2,1) ; D(1,9) et E(0,8).



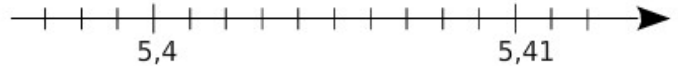
b. F(2) ; G(0,4) ; H(2,8) ; J(1,4) et K(3,2).



c. L(5,45) ; M(5,48) ; N(5,38) et P(5,41).



d. Q(5,402) ; R(5,407) ; S(5,399) et T(5,412).



Objectif : Comparer ou encadrer des nombres décimaux



Exercice 6 : Comparer les nombres suivants

| | | | | | |
|---------|------|--------|--------|-----|---------|
| 12,56 | ... | 27,01 | 25,8 | ... | 26,1 |
| 34,24 | ... | 34,095 | 789,57 | ... | 789,485 |
| 0,29 | ... | 0,3 | 2,5 | ... | 2,500 |
| 1,54008 | ... | 1,5401 | 0,001 | ... | 0,01 |
| 500,2 | | 500,19 | 101,2 | ... | 100,99 |

Exercice 7 : Ranger dans l'ordre croissant les nombres suivants

12,7 ; 12,07 ; 15,3 ; 12,34 ; 12,55

Exercice 8 : Ranger dans l'ordre décroissant les nombres suivants

79,51 ; 79,055 ; 79 ; 79,9 ; 80

Exercice 9 : Encadrer à l'unité les nombres suivants

13,6 57,99 0,57 27,54 1,93 10,9