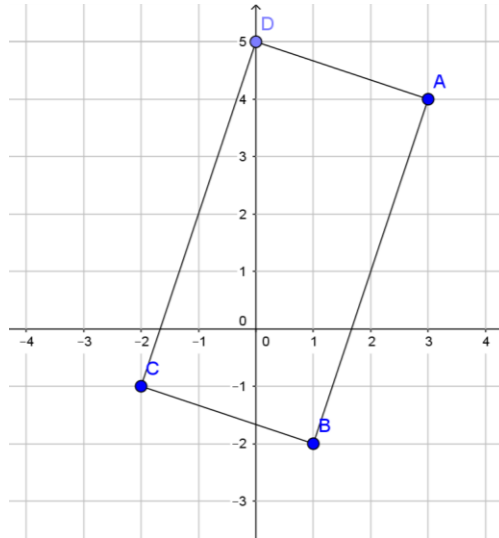


Correction

DS n°8 (sujet A)

Exercice 1 : (4 points)

1)



2) a) $ABCD$ est un parallélogramme, donc $\overrightarrow{AB} = \overrightarrow{DC}$.

b) Notons $D(x; y)$.

$$\overrightarrow{AB} \begin{pmatrix} x_B - x_A \\ y_B - y_A \end{pmatrix} \Leftrightarrow \overrightarrow{AB} \begin{pmatrix} 1 - 3 \\ -2 - 4 \end{pmatrix} \Leftrightarrow \overrightarrow{AB} \begin{pmatrix} -2 \\ -6 \end{pmatrix}$$

$$\overrightarrow{DC} \begin{pmatrix} x_C - x_D \\ y_C - y_D \end{pmatrix} \Leftrightarrow \overrightarrow{DC} \begin{pmatrix} -2 - x \\ -1 - y \end{pmatrix}$$

$$\overrightarrow{AB} = \overrightarrow{DC} \Leftrightarrow \begin{cases} -2 = -2 - x \\ -6 = -1 - y \end{cases} \Leftrightarrow \begin{cases} x = -2 + 2 = 0 \\ y = -1 + 6 = 5 \end{cases}$$

Donc $D(0; 5)$

c) Graphiquement, nous voyons bien que D a pour coordonnées $(0; 5)$.

Exercice 2 : (4 points)

1) a) $x \in [1; 2,5] \Leftrightarrow 1 \leq x \leq 2,5$

La fonction inverse est décroissante sur l'intervalle $]0; +\infty[$, donc :

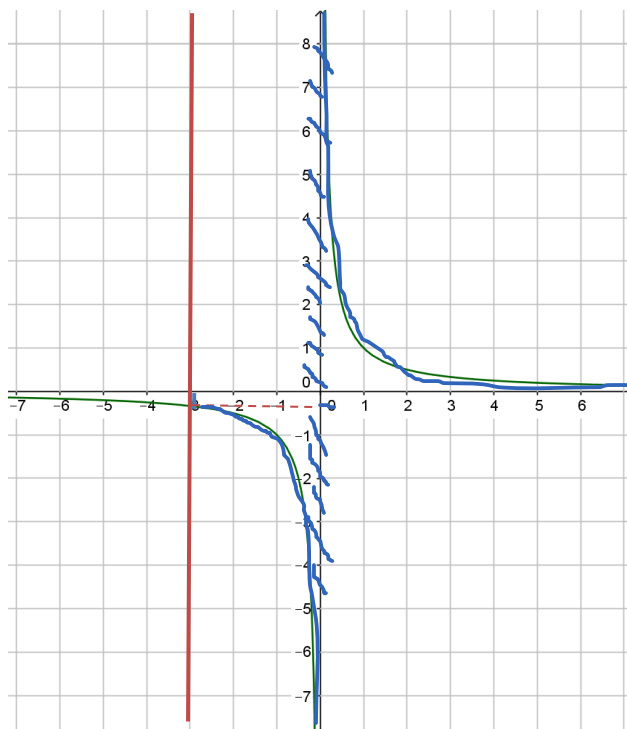
$$1 \geq \frac{1}{x} \geq \frac{1}{2,5}$$

b) $x \in]-3; -1] \Leftrightarrow -3 < x \leq -1$

La fonction inverse est décroissante sur l'intervalle $]-\infty; 0[$, donc :

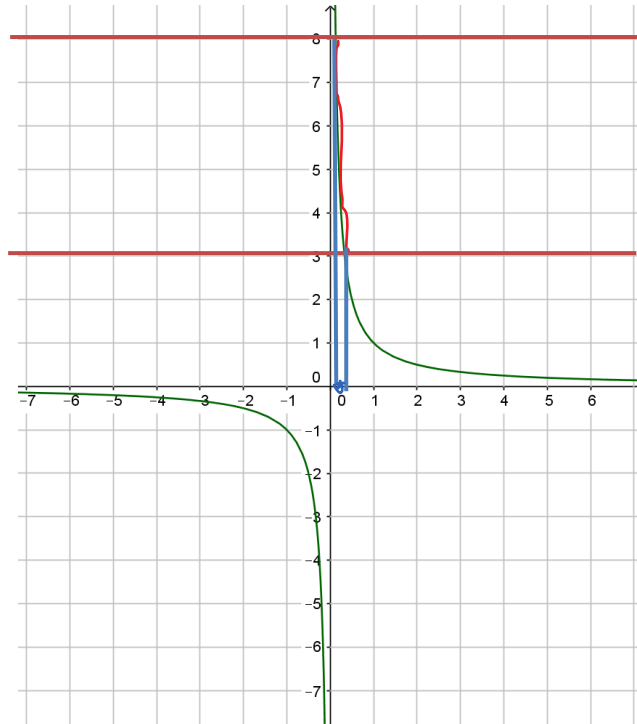
$$-\frac{1}{3} > \frac{1}{x} \geq -1$$

c) $x > -3$



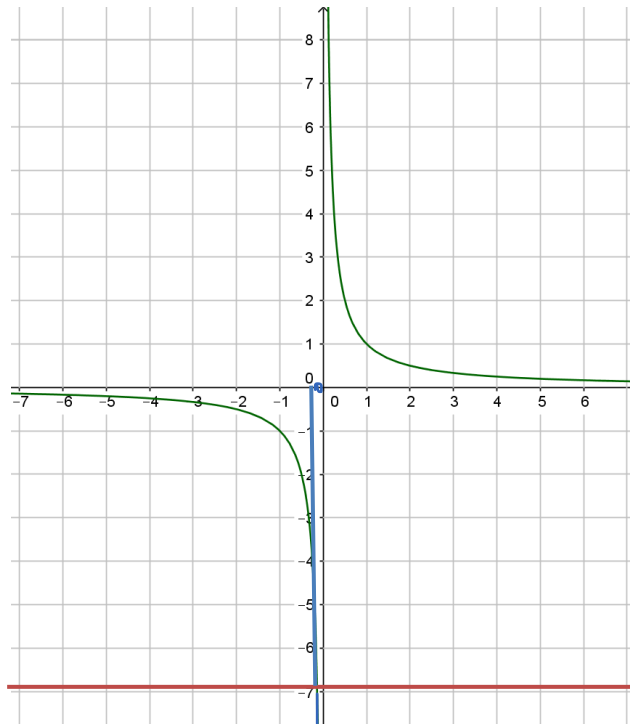
Alors $\frac{1}{x} \in]-\infty; -\frac{1}{3}[\cup]0; +\infty[$

2) a) $3 \leq \frac{1}{x} \leq 8$



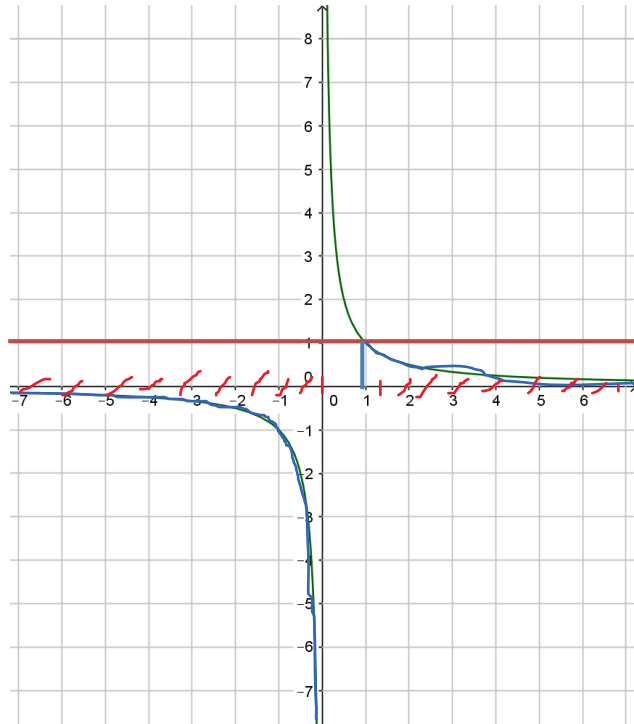
Alors $\frac{1}{8} \leq x \leq \frac{1}{3}$

b) $\frac{1}{x} < -7$



Alors $x \in]-\frac{1}{7}; 0[$

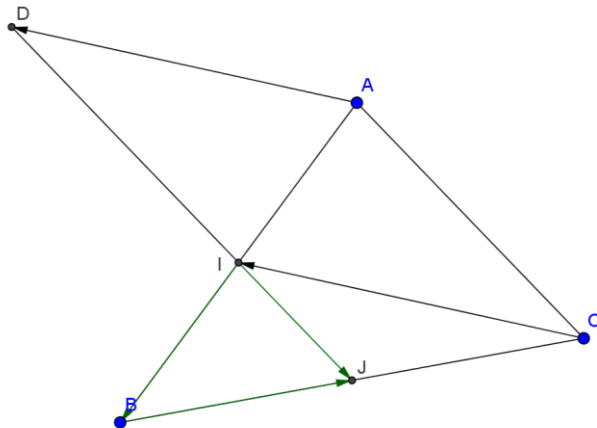
c) $\frac{1}{x} \leq 1$



Alors $x \in]-\infty; 0[\cup [1; +\infty[$

Exercice 3 : (6 points)

1) 2)



3) a) Montrons que $\frac{1}{2}(\overrightarrow{AB} + \overrightarrow{BC}) = \overrightarrow{IJ}$

$$\overrightarrow{IJ} = \overrightarrow{IB} + \overrightarrow{BJ}$$

Or I est milieu de [AB] et J milieu de [BC], donc :

$$\overrightarrow{IB} = \frac{1}{2}\overrightarrow{AB} \quad \text{et} \quad \overrightarrow{BJ} = \frac{1}{2}\overrightarrow{BC}$$

$$\text{Donc } \overrightarrow{IJ} = \frac{1}{2}\overrightarrow{AB} + \frac{1}{2}\overrightarrow{BC} = \frac{1}{2}(\overrightarrow{AB} + \overrightarrow{BC})$$

b) D'après la relation de Chasles, $\overrightarrow{AB} + \overrightarrow{BC} = \overrightarrow{AC}$ donc :

$$\overrightarrow{IJ} = \frac{1}{2}\overrightarrow{AC}$$

4) a) D est l'image de A par la translation de vecteur \overrightarrow{CI} , donc $\overrightarrow{CI} = \overrightarrow{AD}$, donc le quadrilatère ADIC est un parallélogramme.

b) ADIC est un parallélogramme, donc $\overrightarrow{AC} = \overrightarrow{DI}$.

5) D'après la question 3b) on a $\overrightarrow{IJ} = \frac{1}{2}\overrightarrow{AC}$, et d'après la question 4b) $\overrightarrow{AC} = \overrightarrow{DI}$, donc :

$$\overrightarrow{IJ} = \frac{1}{2}\overrightarrow{DI}$$

Les vecteurs \overrightarrow{IJ} et \overrightarrow{DI} sont colinéaires, donc les points D, I et J sont alignés.

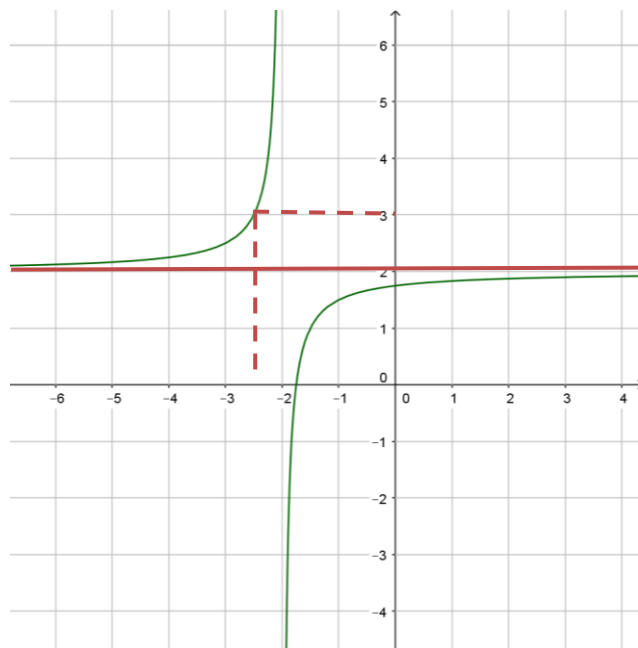
Exercice 4 : (6 points)

1) $f(x) = 2 - \frac{1}{2x+4} = \frac{2(2x+4)}{2x+4} - \frac{1}{2x+4} = \frac{4x+8-1}{2x+4} = \frac{4x+7}{2x+4}$

$a = 4 ; b = 7 ; c = 2$ et $d = 4$

f est donc bien une fonction homographique, définie pour tout réel x tel que $2x + 4 \neq 0$, soit $x \neq -2$.

f est donc définie sur $] -\infty ; -2[\cup] -2 ; +\infty [$





2) La droite $y = 2$ n'a aucun point en commun avec la courbe représentative de f .

$$\begin{aligned} 3) f(x) = 3 &\Leftrightarrow \frac{4x+7}{2x+4} = 3 \\ &\Leftrightarrow 4x + 7 = 3(2x + 4) \\ &\Leftrightarrow 4x + 7 = 6x + 12 \\ &\Leftrightarrow 2x = -5 \\ &\Leftrightarrow x = -\frac{5}{2} \end{aligned}$$

Graphiquement, on retrouve bien cette valeur.

4) a) Voici le tableau de variations de f :

x	$-\infty$	-2	$+\infty$
$f(x)$			

$$b) x \in [-1; 2] \Leftrightarrow -1 \leq x \leq 2$$

La fonction f est croissante sur l'intervalle $]-2; +\infty[$, donc

$$f(-1) \leq f(x) \leq f(2)$$

$$f(-1) = \frac{4 \times (-1) + 7}{2 \times (-1) + 4} = \frac{-4 + 7}{-2 + 4} = \frac{3}{2}$$

$$f(2) = \frac{4 \times 2 + 7}{2 \times 2 + 4} = \frac{8 + 7}{4 + 4} = \frac{15}{8}$$

$$\text{Donc } \frac{3}{2} \leq f(x) \leq \frac{15}{8}$$

$$5) g(x) = x + \frac{7}{4}$$

$$\begin{aligned} f(x) = g(x) &\Leftrightarrow \frac{4x+7}{2x+4} = x + \frac{7}{4} \\ &\Leftrightarrow \frac{4x+7}{2x+4} = \frac{4x+7}{4} \\ &\Leftrightarrow 4(4x+7) = (2x+4)(4x+7) \\ &\Leftrightarrow 4(4x+7) - (2x+4)(4x+7) = 0 \\ &\Leftrightarrow (4x+7)[4 - (2x+4)] = 0 \\ &\Leftrightarrow (4x+7)[-2x] = 0 \\ &\Leftrightarrow 4x+7 = 0 \quad \text{ou} \quad -2x = 0 \\ &\Leftrightarrow x = -\frac{7}{4} \quad \text{ou} \quad x = 0 \end{aligned}$$

$$S = \left\{ -\frac{7}{4}; 0 \right\}$$

Exercice Bonus : (+2 points)

On veut : $2\overrightarrow{DA} + \overrightarrow{DB} + \overrightarrow{DC} = \vec{0}$

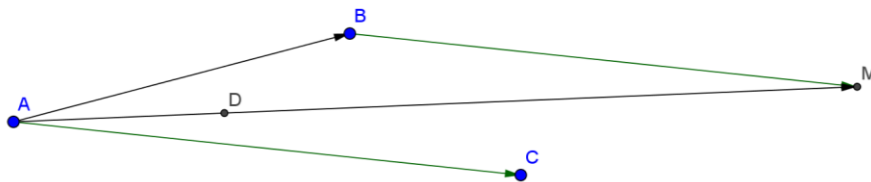
$$\Leftrightarrow 2\overrightarrow{DA} + (\overrightarrow{DA} + \overrightarrow{AB}) + (\overrightarrow{DA} + \overrightarrow{AC}) = \vec{0} \quad \text{d'après la relation de Chasles}$$

$$\Leftrightarrow 4\overrightarrow{DA} + \overrightarrow{AB} + \overrightarrow{AC} = \vec{0}$$

$$\Leftrightarrow \overrightarrow{AB} + \overrightarrow{AC} = 4\overrightarrow{AD}$$

$$\Leftrightarrow \overrightarrow{AD} = \frac{1}{4}(\overrightarrow{AB} + \overrightarrow{AC})$$

On construit alors le vecteur $\overrightarrow{AB} + \overrightarrow{AC}$, puis on place le point D tel que $AD = \frac{1}{4}AM$

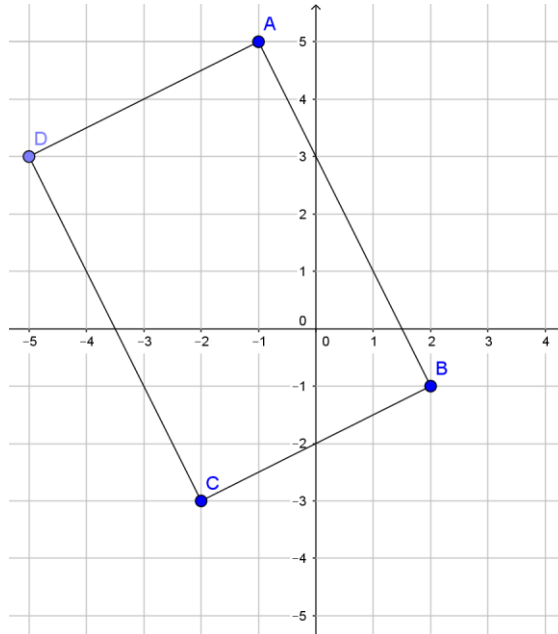


Correction

DS n°8 (sujet B)

Exercice 1 : (4 points)

1)



2) a) $ABCD$ est un parallélogramme, donc $\overrightarrow{AB} = \overrightarrow{DC}$.

b) Notons $D(x; y)$.

$$\overrightarrow{AB} \begin{pmatrix} x_B - x_A \\ y_B - y_A \end{pmatrix} \Leftrightarrow \overrightarrow{AB} \begin{pmatrix} 2 - (-1) \\ -1 - 5 \end{pmatrix} \Leftrightarrow \overrightarrow{AB} \begin{pmatrix} 3 \\ -6 \end{pmatrix}$$

$$\overrightarrow{DC} \begin{pmatrix} x_C - x_D \\ y_C - y_D \end{pmatrix} \Leftrightarrow \overrightarrow{DC} \begin{pmatrix} -2 - x \\ -3 - y \end{pmatrix}$$

$$\overrightarrow{AB} = \overrightarrow{DC} \Leftrightarrow \begin{cases} 3 = -2 - x \\ -6 = -3 - y \end{cases} \Leftrightarrow \begin{cases} x = -2 - 3 = -5 \\ y = -3 + 6 = 3 \end{cases}$$

Donc $D(-5; 3)$

c) Graphiquement, nous voyons bien que D a pour coordonnées $(-5; 3)$.

Exercice 2 : (4 points)

1) a) $x \in [3; 5,5] \Leftrightarrow 3 \leq x \leq 5,5$

La fonction inverse est décroissante sur l'intervalle $]0 ; +\infty[$, donc :

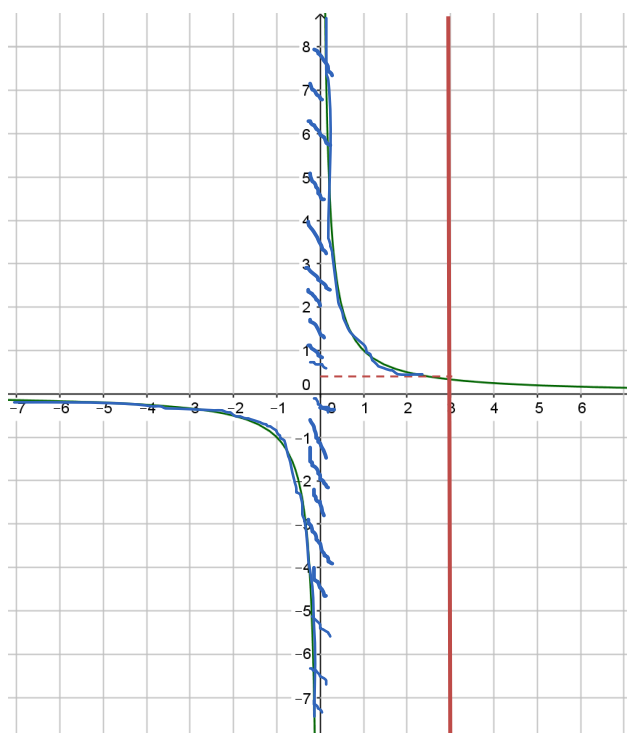
$$\frac{1}{3} \geq \frac{1}{x} \geq \frac{1}{5,5}$$

b) $x \in [-4; -3[\Leftrightarrow -4 \leq x < -3$

La fonction inverse est décroissante sur l'intervalle $]-\infty ; 0[$, donc :

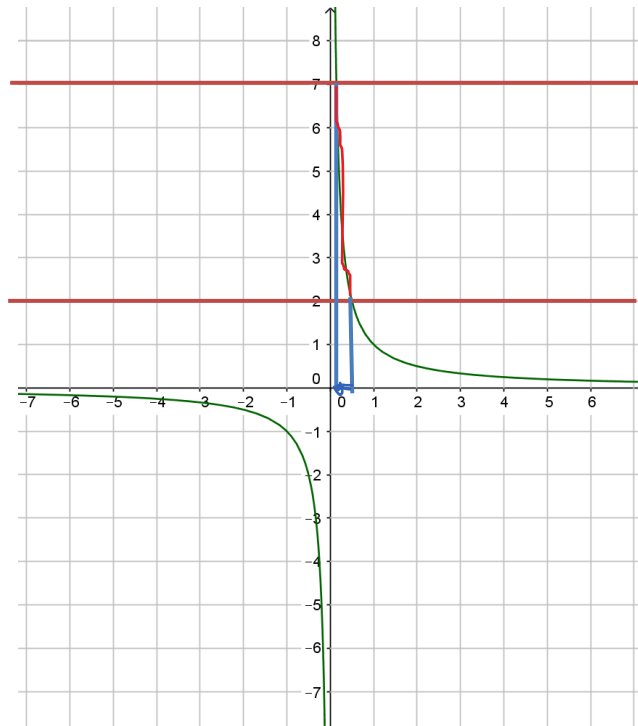
$$-\frac{1}{4} \geq \frac{1}{x} > -\frac{1}{3}$$

c) $x \leq 3$



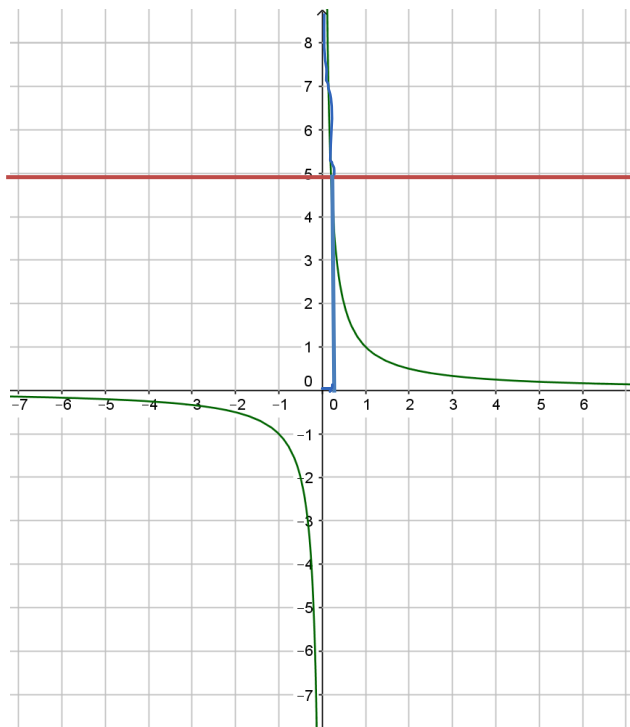
Alors $\frac{1}{x} \in]-\infty; 0[\cup]\frac{1}{3}; +\infty[$

2) a) $2 \leq \frac{1}{x} \leq 7$



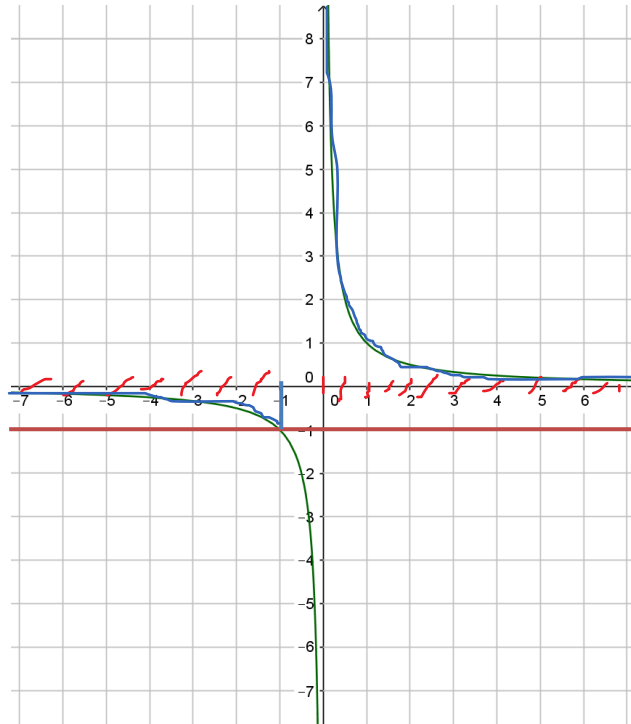
Alors $\frac{1}{7} \leq x \leq \frac{1}{2}$

b) $\frac{1}{x} > 5$



Alors $x \in \left] 0; \frac{1}{5} \right[$

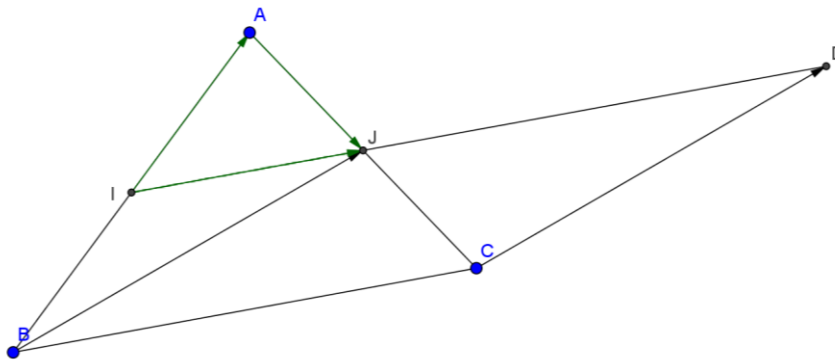
c) $\frac{1}{x} > -1$



Alors $x \in]-\infty; -1[\cup]0; +\infty[$

Exercice 3 : (6 points)

1) 2)



3) a) Montrons que $\frac{1}{2}(\vec{BA} + \vec{AC}) = \vec{IJ}$

$$\vec{IJ} = \vec{IA} + \vec{AJ}$$

Or I est milieu de [AB] et J milieu de [AC], donc :

$$\vec{IA} = \frac{1}{2}\vec{BA} \quad \text{et} \quad \vec{AJ} = \frac{1}{2}\vec{AC}$$

$$\text{Donc } \vec{IJ} = \frac{1}{2}\vec{BA} + \frac{1}{2}\vec{AC} = \frac{1}{2}(\vec{BA} + \vec{AC})$$

b) D'après la relation de Chasles, $\overrightarrow{BA} + \overrightarrow{AC} = \overrightarrow{BC}$ donc :

$$\overrightarrow{IJ} = \frac{1}{2}\overrightarrow{BC}$$

4) a) D est l'image de C par la translation de vecteur \overrightarrow{BJ} , donc $\overrightarrow{BJ} = \overrightarrow{CD}$, donc le quadrilatère BCDJ est un parallélogramme.

b) BCDJ est un parallélogramme, donc $\overrightarrow{BC} = \overrightarrow{JD}$.

5) D'après la question 3b) on a $\overrightarrow{IJ} = \frac{1}{2}\overrightarrow{BC}$, et d'après la question 4b) $\overrightarrow{BC} = \overrightarrow{JD}$, donc :

$$\overrightarrow{IJ} = \frac{1}{2}\overrightarrow{JD}$$

Les vecteurs \overrightarrow{IJ} et \overrightarrow{JD} sont colinéaires, donc les points D, I et J sont alignés.

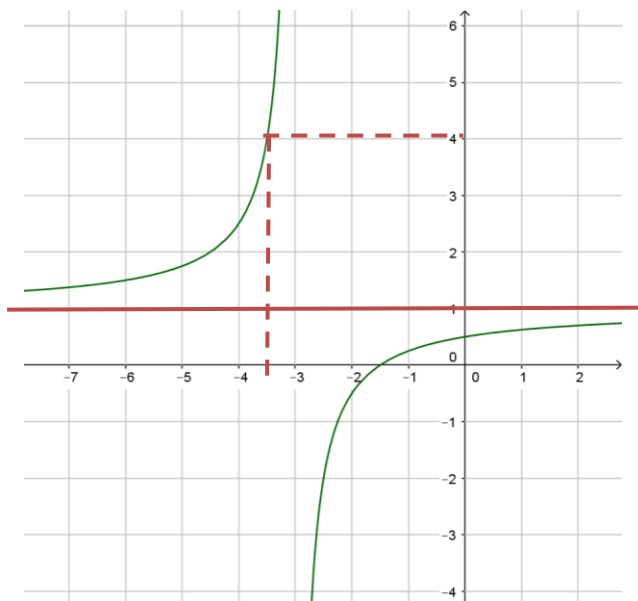
Exercice 4 : (6 points)

1) $f(x) = 1 - \frac{3}{2x+6} = \frac{1(2x+6)}{2x+6} - \frac{3}{2x+6} = \frac{2x+6-3}{2x+6} = \frac{2x+3}{2x+6}$

$a = 2 ; b = 3 ; c = 2$ et $d = 6$

f est donc bien une fonction homographique, définie pour tout réel x tel que $2x + 6 \neq 0$, soit $x \neq -3$.

f est donc définie sur $] -\infty ; -3[\cup] -3 ; +\infty[$





2) La droite $y = 1$ n'a aucun point en commun avec la courbe représentative de f .

$$\begin{aligned} 3) f(x) = 4 &\Leftrightarrow \frac{2x+3}{2x+6} = 4 \\ &\Leftrightarrow 2x + 3 = 4(2x + 6) \\ &\Leftrightarrow 2x + 3 = 8x + 24 \\ &\Leftrightarrow 6x = -21 \\ &\Leftrightarrow x = -\frac{21}{6} = -\frac{7}{2} \end{aligned}$$

Graphiquement, on retrouve bien cette valeur.

4) a) Voici le tableau de variations de f :

x	$-\infty$	-3	$+\infty$
$f(x)$			

b) $x \in [-7; -4] \Leftrightarrow -7 \leq x \leq -4$

La fonction f est croissante sur l'intervalle $]-\infty ; -3[$, donc

$$f(-7) \leq f(x) \leq f(-4)$$

$$f(-7) = \frac{2 \times (-7) + 3}{2 \times (-7) + 6} = \frac{-14 + 3}{-14 + 6} = \frac{-11}{-8} = \frac{11}{8}$$

$$f(-4) = \frac{2 \times (-4) + 3}{2 \times (-4) + 6} = \frac{-8 + 3}{-8 + 6} = \frac{-5}{-2} = \frac{5}{2}$$

Donc $\frac{11}{8} \leq f(x) \leq \frac{5}{2}$

5) $g(x) = x + \frac{3}{2}$.

$$\begin{aligned} f(x) = g(x) &\Leftrightarrow \frac{2x+3}{2x+6} = x + \frac{3}{2} \\ &\Leftrightarrow \frac{2x+3}{2x+6} = \frac{2x+3}{2} \\ &\Leftrightarrow 2(2x+3) = (2x+6)(2x+3) \\ &\Leftrightarrow 2(2x+3) - (2x+6)(2x+3) = 0 \\ &\Leftrightarrow (2x+3)[2 - (2x+6)] = 0 \\ &\Leftrightarrow (2x+3)[-2x-4] = 0 \\ &\Leftrightarrow 2x+3 = 0 \quad \text{ou} \quad -2x-4 = 0 \\ &\Leftrightarrow x = -\frac{3}{2} \quad \text{ou} \quad x = 2 \end{aligned}$$

$$S = \left\{ -2; -\frac{3}{2} \right\}$$

Exercice Bonus : (+2 points)

On veut : $2\overrightarrow{DA} + \overrightarrow{DB} + \overrightarrow{DC} = \vec{0}$

$$\Leftrightarrow 2\overrightarrow{DA} + (\overrightarrow{DA} + \overrightarrow{AB}) + (\overrightarrow{DA} + \overrightarrow{AC}) = \vec{0} \quad \text{d'après la relation de Chasles}$$

$$\Leftrightarrow 4\overrightarrow{DA} + \overrightarrow{AB} + \overrightarrow{AC} = \vec{0}$$

$$\Leftrightarrow \overrightarrow{AB} + \overrightarrow{AC} = 4\overrightarrow{AD}$$

$$\Leftrightarrow \overrightarrow{AD} = \frac{1}{4}(\overrightarrow{AB} + \overrightarrow{AC})$$

On construit alors le vecteur $\overrightarrow{AB} + \overrightarrow{AC}$, puis on place le point D tel que $AD = \frac{1}{4}AM$

